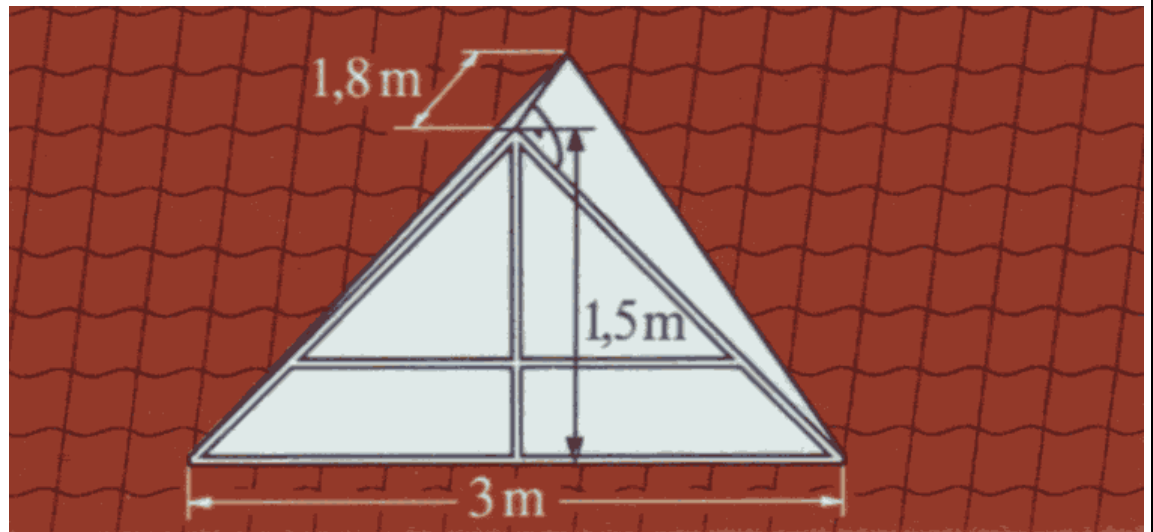


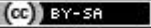
Bereich	Thema	Schwierigkeit
Geometrie	Figuren - Anwendungsaufgaben	*

Mansarde

Familie Meier möchte das Dachgeschoss ihres Hauses durch Mansarden mit dreieckigen Fenstern ausbauen.

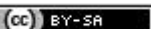
Berechne die Fensterfläche.



 2010 Thomas Unkelbach

Bereich	Thema	Schwierigkeit
Geometrie	Figuren - Anwendungsaufgaben	*

$$A_{\text{Fenster}} = A_{\text{Dreieck}} = c \cdot h_c : 2 = 3\text{m} \cdot 1,5\text{m} : 2 = 2,25\text{m}^2$$

 2009 Thomas Unkelbach