

Probeunterricht 2011 an den Gymnasien in Bayern
Mathematik – Jahrgangsstufe 5 – 2. Tag


Name: _____

Punkte: _____ / 30

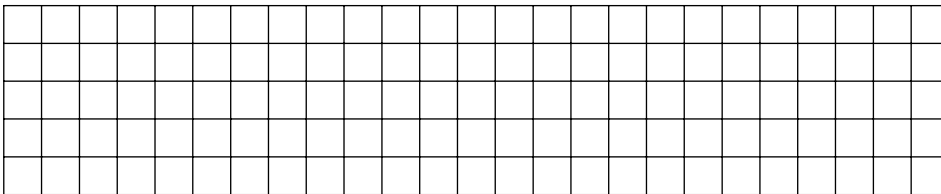
Lies die Aufgaben genau durch, schreibe deutlich und zeichne sauber.
Achte auf gut erkennbare Lösungswege.

1. a) Berechne:

$$2 \text{ kg} - 1 \text{ kg } 260 \text{ g} + 185 \text{ g} = \underline{\hspace{2cm}} \text{ g}$$

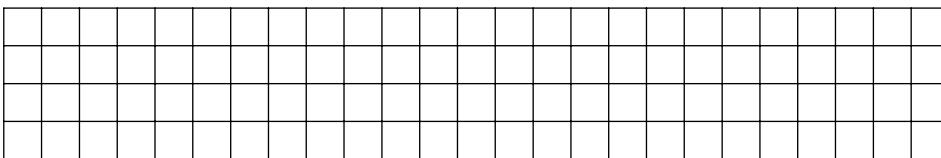


$$1 \text{ m}^2 + 52 \text{ dm}^2 - 620 \text{ cm}^2 = \underline{\hspace{2cm}} \text{ cm}^2$$



b) Gib in Stunden und Minuten an:

$$500 \text{ min} = \underline{\hspace{1cm}} \text{ h } \underline{\hspace{1cm}} \text{ min}$$



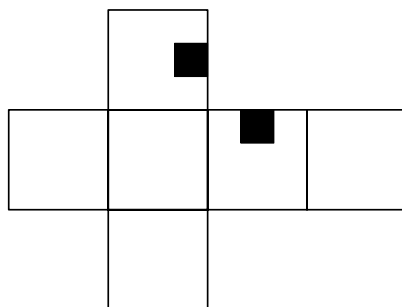
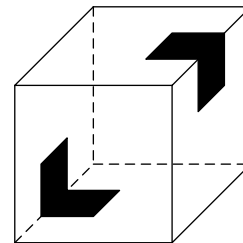
Punkte

/ 2

/ 2

/ 1

2. Die rechte Abbildung zeigt einen Würfel, auf den zwei schwarze Streifen geklebt wurden. Ergänze das Würfelnetz so, dass es zu dem abgebildeten Würfel passt.



/ 2

